

**Контрольно - залікова станція «Відун»
Картка учасника гри «Джура»**

Рій

(район _____)

Час початку роботи _____

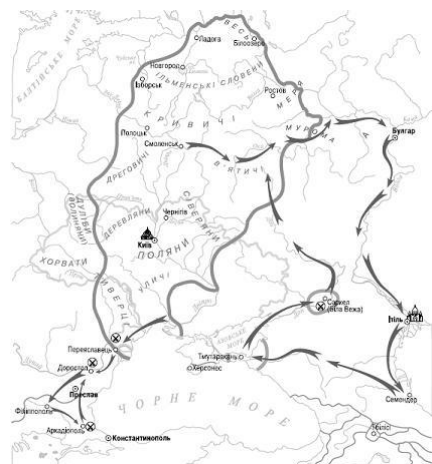
Час завершення роботи _____

Кількість набраних балів _____

1. У завданнях 1-10, що мають по чотири варіанти відповіді, виберіть і позначте лише один правильний.

1. Який великий князь київський здійснив воєнний похід, позначений на карті?

- А) Святослав Ігорович
- Б) Володимир Святославич
- В) Ярослав Мудрий
- Г) Володимир Мономах



А	Б	В	Г

2. Як називалося козацтво, яке проживало по хуторах і зимівниках Запорозької Січі?

- А) кошове;
- Б) паланкове;
- В) реєстрове;
- Г) нереєстрове.

А	Б	В	Г

3. Керівний склад Запорозької Січі, а пізніше й Гетьманщини — це:

- А) старшина;
- Б) компанійці;
- В) сердюки;
- Г) реєстрові козаки

А	Б	В	Г

4. Хто із цих козаків, якщо вірити народній пісні, проміняв жінку на тютюн та люльку?

- А) Петро Дорошенко,
- Б) Іван Сірко;
- В) Петро Сагайдачний;
- Г) Іван Богун

А	Б	В	Г

5. На якому з портретів зображено полковника?



А	Б	В	Г

6. Яка подія дала поштовх до створення Легіону УСС?

- А) початок Першої світової війни;
- Б) утворення Української Центральної Ради;
- В) об'єднання українських політичних сил навколо ідеї незалежності України;
- Г) повалення царизму в Росії

А	Б	В	Г

7. Який підрозділ здійснював оборону гори Маківка в роки Першої світової війни?

«...здавалося, гора рухається, дихає пеклом. Так минала година за годиною. Це був третій пам'ятний день московського наступу на Маківку. Змагалися дві сили. Одна сказала: візьму будь-якою ціною, а друга відповіла: ні за яку ціну не віддам...»

- А) Українських січових стрільців (УСС);
- Б) Української галицької армії (УГА);
- В) Першого українізованого корпусу;
- Г) Полк ім. Б. Хмельницького.

А	Б	В	Г

8. Збройна боротьба військ УНР за незалежність України завершилася:

- А) боєм під Крутами; Б) «Чортківською офензивою»;
В) «Київською катастрофою»; Г) Другим «Зимовим походом».

А	Б	В	Г

9. Хто очолив Листопадовий чин, в результаті якого утворилась Західноукраїнська народна республіка ?

- А) Є. Петрушевич; Б) С. Петлюра; В) П. Скоропадський; Г) Д. Вітовський

А	Б	В	Г

10. Син якого українського письменника був організатором авіаційного полку Української галицької армії ?

- А) Т. Шевченка; Б) М. Коцюбинського; В) М. Старицького; Г) І. Франка

А	Б	В	Г

11. Як поділяються військові звання в ЗС України?

- А) на армійські та корабельні; Б) на спеціальні та звичайні;
В) на сержантські та офіцерські; Г) на офіцерські та солдатські.

А	Б	В	Г

12. Стрій, у якому військовослужбовці або підрозділи (машини) розміщені один (одна) за одним (одною) на дистанціях, установлених Статутом або командиром -

- А) шеренга; Б) колона; В) похідний стрій; Г) розгорнутий стрій.

А	Б	В	Г

II. У завданнях 13-16 розташуйте історичні події, позначені літерами у правильній хронологічній послідовності.

13. Розташуйте події у хронологічній послідовності:

- А) Проголошення ЗУНР; Б) Створення легіону Українських січових стрільців(УСС);
В) Прийняття І Універсалу Центральної Ради; Г) Зимовий похід армії УНР

1 __, 2 __, 3 __, 4 __.

14. Розташуйте події у хронологічній послідовності:

- А) Татарбунарське повстання; Б) утворення ОУН; В) Ліське повстання Г) утворення УВО.

1 __, 2 __, 3 __, 4 __.

15. Установіть послідовність подій.

- А) Створення Головної Української Ради (ГУР); Б) Брусилівський прорив;
В) Взяття Львова російськими військами; Г) Початок формування легіону Українських січових стрільців

1 __, 2 __, 3 __, 4 __.

16. Встановіть хронологічну послідовність обрання кошових отаманів Війська Запорізького:

- А) Іван Сірко; Б) Кость Гордієнко; В) Яків Барабаш; Г) Петро Калнишевський

1 __, 2 __, 3 __, 4 __.

III. У завданнях 17-18 до кожного з чотирьох рядків інформації, позначених цифрами, доберіть один правильний варіант, позначений буквою. Поставте позначки в таблицях відповідей до завдань на перетині відповідних рядків (цифри) і колонок (букви).

17. Установіть відповідність:

- | | |
|----------------------------|--------------------------------|
| 1) Бій під Крутами | А) Липень 1917 |
| 2) Перший зимовий похід | Б) Січень 1918 |
| 3) Повстання самостійників | В) Червень 1919 |
| 4) Трикутник смерті | Г) Осінь 1919 |
| 5) Чортківська офензива | Д) Грудень 1919 – травень 1920 |

	А	Б	В	Г	Д
1					
2					
3					
4					
5					

18. Установіть відповідність між військовим званням та погонами

 1	 2	 3	 4
А) Бригадний генерал	Б) Молодший лейтенант	В) Генерал армії України	Г) Майор

	А	Б	В	Г
1				
2				
3				
4				








IV. Завдання 19-20 мають сім варіантів відповідей, серед яких лише три правильні. Виберіть три цифри, що позначають правильні відповіді

19. У яких боях Першої світової війни брав участь підрозділ Українських січових стрільців (УСС)?

1. узяття фортеці Перемишль
2. бій під Мотовилівкою
3. визволення Львова
4. оборона Карпатських перевалів
5. бій на горі Лисоня
6. похід у складі німецької армії на Лівобережну Україну
7. похід у складі австрійської армії на Правобережну Україну

--	--	--

20. Із запропонованих портретів історичних діячів виберіть тих хто НЕ приймав участь у подіях революції 1917-1921 рр.

 1	 2	 3	 4
 5	 6	 7	

--	--	--